




Сурагчийн нэр: .....

Эхэлсэн: ..... он ..... сар ..... өдөр





**■ - 1 н**



$10 \text{ н} = 1 \text{ а}$



Аравт (а)	Нэгж (н)
	
3	5

$10 \text{ н} = 1 \text{ а}$   
 $30 \text{ н} = 3 \text{ а}$   
 $5 \text{ н}$   
 $3 \text{ а } 5 \text{ н} = 35$

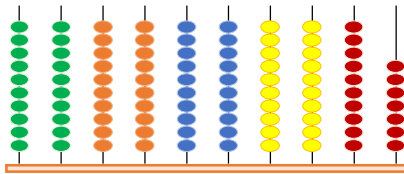
1 Тоог бичээрэй.

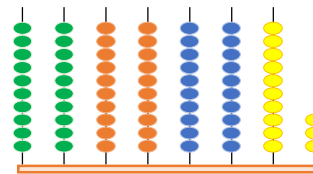
Аравт (а)	Нэгж (н)
	
...	...

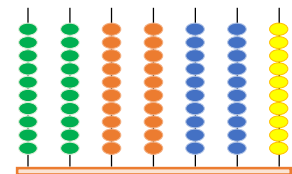
Аравт (а)	Нэгж (н)
	
...	...

Аравт (а)	Нэгж (н)
	
...	...

2 Тоолоод, хэдэн ширхэг байгааг бичээрэй.








3 Загварын дагуу бичээрэй.

а.  $7 \text{ а } 8 \text{ н} = 78$

а.  $56 = 5 \text{ а } 6 \text{ н}$

а.  $68 = \underline{\quad} \text{ а } \underline{\quad} \text{ н}$

б.  $6 \text{ а } 4 \text{ н} = \underline{\quad}$

б.  $98 = \underline{\quad} \text{ а } \underline{\quad} \text{ н}$

б.  $39 = \underline{\quad} \text{ а } \underline{\quad} \text{ н}$

в.  $8 \text{ а } 5 \text{ н} = \underline{\quad}$

в.  $75 = \underline{\quad} \text{ а } \underline{\quad} \text{ н}$

в.  $91 = \underline{\quad} \text{ а } \underline{\quad} \text{ н}$

4 Орны нэмэгдэхүүний нийлбэрт задлаарай.

а.  $56 = 50 + 6$

а.  $68 = \underline{\quad} + \underline{\quad}$

а.  $54 = \underline{\quad} + \underline{\quad}$

б.  $98 = \underline{\quad} + \underline{\quad}$

б.  $39 = \underline{\quad} + \underline{\quad}$

б.  $76 = \underline{\quad} + \underline{\quad}$

в.  $75 = \underline{\quad} + \underline{\quad}$

в.  $91 = \underline{\quad} + \underline{\quad}$

в.  $83 = \underline{\quad} + \underline{\quad}$

5 Тоог бичээрэй.

Далан долоо –

Тавин ес –

Жаран гурав –

Ерэн зургаа –









Дөчин найм –

Гучин нэг –

Наян найм –


Хорин зургаа –

Дууссан: .....сар .....өдөр

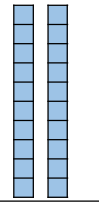

			Даалгавар	1	2	3	4	5
			Өөрийн үнэлгээ					

Сурагчийн нэр: .....

Эхэлсэн: ..... он ..... сар ..... өдөр



= > <

Аравт (а)	Нэгж (н)
	
2	3

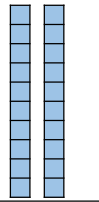

2 тоог жишье.

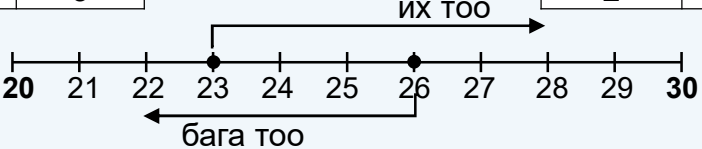
23  26

2 а = 2 а

3 н < 6 н

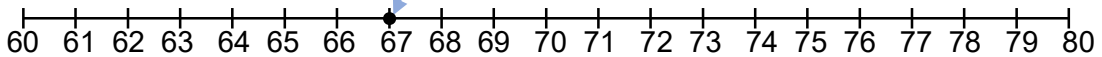
23 < 26

Аравт (а)	Нэгж (н)
	
2	6



1 Тоонуудыг цэгээр тэмдэглээд, буурах эрэмбээр бичээрэй.

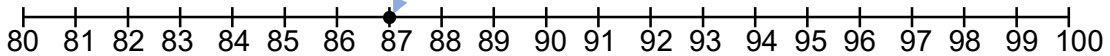
63      75      67      80      71      69



\_\_\_\_,    \_\_\_\_ ,    \_\_\_\_ ,    \_\_\_\_ ,    \_\_\_\_ ,    \_\_\_\_ ,

2 Тоонуудыг цэгээр тэмдэглээд, жишээрэй.

82      98      91      86      80      92



92  82      80  91      92  86      98  86


3 Хөрш тоог бичээрэй.

а.  35       б.  47       в.  56

84        68        71

61        81        90

4 Төл малын тоог бичжээ. Асуултад хариулаарай.







Хурга, тугал хоёрын аль нь олон бэ? \_\_\_\_\_

Хамгийн олон амьтан \_\_\_\_\_

Хамгийн цөөн амьтан \_\_\_\_\_

Дууссан: .....сар .....өдөр

Даалгавар	1	2	3	4
Өөрийн үнэлгээ				


Сурагчийн нэр: .....

Эхэлсэн: ..... он ..... сар ..... өдөр

35, 36, 37, 38, 39 гэсэн тоонуудыг 40 шахам гэж баримжаална.  
41, 42, 43, 44 гэсэн тоонуудыг 40 гаруй гэж баримжаална.

30 нь 4 аравд ойр байрлаж байгаа тул 40 шахам гэж хэлнэ.

1 Хэдэн жимс байгааг баримжаалан бичээрэй.

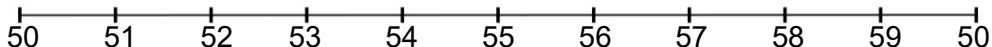


нь  аравд ойр байна. Ойролцоогоор  шувуу байна.

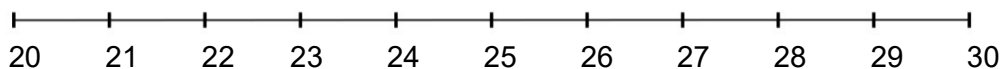
2 Аль аравтад ойр байгааг бичээрэй.



3 Ангид 50 гаруй хүүхэд байна гэж хэлэв. Хэдэн хүүхэд байж болохыг тэмдэглээрэй.



4 Охинд 28 үзэг байна. Үзэгний тоог аравтаар баримжаалан тохирох (20 гаруй, 30 шахам) үгийг цэгийн оронд нөхөж бичээрэй.



Охинд ойролцоогоор ..... үзэг байна.

Дууссан: .....сар .....өдөр

		Даалгавар	1	2	3	4
		Өөрийн үнэлгээ				